



**Проверочная работа  
по МАТЕМАТИКЕ**

**6 класс**

**Образец**

**Пояснение к образцу проверочной работы**

На выполнение работы по математике отводится два урока (не более 45 минут каждый). Работа состоит из двух частей и включает в себя 16 заданий.

Обе части работы могут выполняться в один день с перерывом не менее 10 минут или в разные дни.

При выполнении работы не разрешается пользоваться учебниками, рабочими тетрадями, справочниками, калькулятором.

При необходимости можно пользоваться черновиком. Записи в черновике проверяться и оцениваться не будут.



**В образце представлено по несколько примеров заданий 7, 12 и 14. В реальных вариантах проверочной работы на каждую из этих позиций будет предложено только одно задание.**

*Таблица для внесения баллов участника*

		Часть 1											
Номер задания		1	2(1)	2(2)	3	4	5	6	7	8	9	10	11
Баллы													
		Часть 2											
Номер задания		12	13	14	15	16	Сумма баллов		Отметка за работу				
Баллы													

### **Инструкция по выполнению заданий части 1 проверочной работы**

На выполнение заданий части 1 проверочной работы по математике отводится один урок (не более 45 минут). Часть 1 включает в себя 11 заданий.

Ответы на задания запишите в поля ответов в тексте работы. Если Вы хотите изменить ответ, зачеркните его и запишите рядом новый.

При выполнении работы не разрешается пользоваться учебниками, рабочими тетрадями, справочниками, калькулятором.

При необходимости можно пользоваться черновиком. Записи в черновике проверяться и оцениваться не будут.

Советуем выполнять задания в том порядке, в котором они даны. В целях экономии времени пропускайте задание, которое не удаётся выполнить сразу, и переходите к следующему. Если после выполнения работы у Вас останется время, то Вы сможете вернуться к пропущенным заданиям.

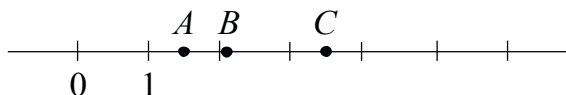
***Желаем успеха!***





7

На координатной прямой отмечены точки  $A$ ,  $B$  и  $C$ . Среди чисел  $0,67$ ;  $1,5$ ;  $2,105$ ;  $2,9$  и  $3,5$  есть координаты всех трёх точек.



Установите соответствие между точками и их координатами.

ТОЧКИ

КООРДИНАТЫ

 $A$ 1)  $2,105$  $B$ 2)  $3,5$  $C$ 3)  $0,67$ 4)  $1,5$ 5)  $2,9$ 

В таблице под каждой точкой укажите номер соответствующей координаты.

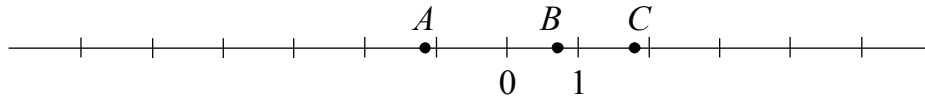


Ответ:

$A$	$B$	$C$

**ИЛИ**

7 На координатной прямой отмечены точки  $A$ ,  $B$  и  $C$ . Среди чисел  $-\frac{25}{7}$ ,  $-\frac{9}{7}$ ,  $\frac{5}{7}$ ,  $1\frac{1}{7}$  и  $\frac{13}{7}$  есть координаты всех трёх точек.



Установите соответствие между точками и их координатами.

ТОЧКИ	КООРДИНАТЫ
$A$	1) $\frac{5}{7}$
$B$	2) $-\frac{9}{7}$
$C$	3) $\frac{13}{7}$
	4) $-\frac{25}{7}$
	5) $1\frac{1}{7}$

В таблице под каждой точкой укажите номер соответствующей координаты.

□

Ответ:

$A$	$B$	$C$

□

8 Найдите значение  $x$  из равенства  $2x - 1,6 = 5,4$ .

Ответ:	
--------	--



### **Инструкция по выполнению заданий части 2 проверочной работы**

На выполнение заданий части 2 проверочной работы по математике отводится один урок (не более 45 минут). Часть 2 включает в себя 5 заданий.

Во всех заданиях запишите решение и ответ в указанном месте. Если Вы хотите изменить ответ, зачеркните его и запишите рядом новый.

При выполнении работы не разрешается пользоваться учебниками, рабочими тетрадями, справочниками, калькулятором.

При необходимости можно пользоваться черновиком. Записи в черновике проверяться и оцениваться не будут.

Советуем выполнять задания в том порядке, в котором они даны. В целях экономии времени пропускайте задание, которое не удаётся выполнить сразу, и переходите к следующему. Если после выполнения работы у Вас останется время, то Вы сможете вернуться к пропущенным заданиям.

***Желаем успеха!***

## Часть 2

12

Теплоход прошёл по течению реки 60 км за 4 ч. Сколько времени понадобится на обратный путь, если скорость течения реки равна 1,5 км/ч?

**ИЛИ**

Один насос может наполнить бассейн за 48 часов, а другой насос наполнит тот же бассейн за 16 часов. За сколько часов наполнят бассейн эти два насоса, работая вместе?

Решение.

Ответ:

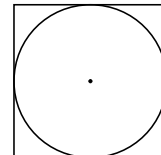


14

Клумба имеет форму круга. На границе клумбы установлен декоративный заборчик, длина которого равна 18,84 м. Найдите площадь клумбы. Ответ дайте в квадратных метрах. Число  $\pi$  примите равным 3,14.

**ИЛИ**

Из квадратного листа картона со стороной 20 см вырезали круг диаметром 20 см. Найдите площадь обрезков. Ответ выразите в квадратных сантиметрах. Число  $\pi$  примите равным 3,14.



Решение.

Ответ:

15

В трёх ящиках лежат яблоки. В первом ящике яблок в 2 раза меньше, чем в двух остальных вместе, во втором — 70 % количества яблок в третьем ящике, а в третьем ящике лежит 80 яблок. Сколько всего яблок в трёх ящиках?

Решение.

Ответ:

16

В многоквартирном доме всего 425 квартир. Во всех подъездах количество квартир одинаковое. Сколько подъездов в доме, если известно, что в каждом из них больше 80, но меньше 100 квартир?

Решение.

Ответ:

## Система оценивания проверочной работы

## Часть 1

Номер задания	1	2(1)	2(2)	3	4	5	6	7	8	9	10	11	Итого
Баллы	1	1	1	1	1	1	1	1	1	1	1	1	12

Номер задания	Правильный ответ
1	-366
2(1)	$\frac{3}{10}$
2(2)	0,89
3	315
4	22
5	714
6	-10
7	412 ИЛИ 213
8	3,5
9	46
10	3 и 4
11	$b$

## Система оценивания проверочной работы

## Часть 2

Номер задания	12	13	14	15	16	Итого
Баллы	2	2	2	2	2	10

12

Теплоход прошёл по течению реки 60 км за 4 ч. Сколько времени понадобится на обратный путь, если скорость течения реки равна 1,5 км/ч?

Решение и указания к оцениванию	Баллы
Решение. Скорость теплохода по течению реки: $60 : 4 = 15$ км/ч. Скорость теплохода против течения реки: $15 - 1,5 \cdot 2 = 12$ км/ч. Обратный путь займёт: $60 : 12 = 5$ часов. Ответ: 5 часов.	
<b>Возможна другая последовательность действий</b>	
Обоснованно получен верный ответ	2
Дан верный ответ, но решение недостаточно обосновано. ИЛИ Ход решения верный, но допущена вычислительная ошибка	1
Решение не соответствует ни одному из критериев, перечисленных выше	0
<i>Максимальный балл</i>	2

**ИЛИ**

Один насос может наполнить бассейн за 48 часов, а другой насос наполнит тот же бассейн за 16 часов. За сколько часов наполнят бассейн эти два насоса, работая вместе?

Решение и указания к оцениванию	Баллы
Решение. Два насоса за один час наполнят: $\frac{1}{16} + \frac{1}{48} = \frac{1}{12}$ бассейна. Значит, эти два насоса наполнят бассейн за 12 часов. Ответ: 12	
<b>Возможна другая последовательность действий</b>	
Обоснованно получен верный ответ	2
Дан верный ответ, но решение недостаточно обосновано. ИЛИ Ход решения верный, но допущена вычислительная ошибка	1
Решение не соответствует ни одному из критериев, перечисленных выше	0
<i>Максимальный балл</i>	2

13

Вычислите:  $2\frac{1}{3} : \left(\frac{5}{8} - \frac{8}{3}\right) + 2 \cdot 1\frac{3}{7}$ .

Решение и указания к оцениванию	Баллы
<p>Решение.</p> <p>1) <math>\frac{5}{8} - \frac{8}{3} = \frac{5 \cdot 3 - 8 \cdot 8}{8 \cdot 3} = \frac{15 - 64}{24} = -\frac{49}{24}</math>;</p> <p>2) <math>2\frac{1}{3} : \left(-\frac{49}{24}\right) = \frac{7}{3} : \left(-\frac{49}{24}\right) = -\frac{7}{3} \cdot \frac{24}{49} = -\frac{8}{7}</math>;</p> <p>3) <math>2 \cdot 1\frac{3}{7} = 2 \cdot \frac{10}{7} = \frac{20}{7}</math>;</p> <p>4) <math>-\frac{8}{7} + \frac{20}{7} = \frac{12}{7} = 1\frac{5}{7}</math>.</p> <p>Ответ: <math>1\frac{5}{7}</math>.</p>	
<b>Возможна другая последовательность действий</b>	
Обоснованно получен верный ответ	2
Дан верный ответ, но решение недостаточно обосновано. ИЛИ Ход решения верный, но допущена вычислительная ошибка	1
Решение не соответствует ни одному из критериев, перечисленных выше	0
<i>Максимальный балл</i>	2

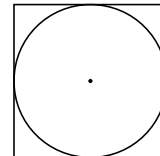
14

Клумба имеет форму круга. На границе клумбы установлен декоративный заборчик, длина которого равна 18,84 м. Найдите площадь клумбы. Ответ дайте в квадратных метрах. Число  $\pi$  примите равным 3,14.

Решение и указания к оцениванию	Баллы
<p>Решение.</p> <p>Радиус клумбы: <math>18,84 : 2 : 3,14 = 3</math> м.</p> <p>Площадь клумбы: <math>3,14 \cdot 3 \cdot 3 = 28,26</math> м<sup>2</sup>.</p> <p>Ответ: 28,26 м<sup>2</sup>.</p>	
<b>Возможна другая последовательность действий</b>	
Обоснованно получен верный ответ	2
Дан верный ответ, но решение недостаточно обосновано. ИЛИ Ход решения верный, но допущена вычислительная ошибка	1
Решение не соответствует ни одному из критериев, перечисленных выше	0
<i>Максимальный балл</i>	2

ИЛИ

- 14 Из квадратного листа картона со стороной 20 см вырезали круг диаметром 20 см. Найдите площадь обрезков. Ответ выразите в квадратных сантиметрах. Число  $\pi$  примите равным 3,14.



Решение и указания к оцениванию	Баллы
Решение. Площадь квадратного листа: $20 \cdot 20 = 400 \text{ см}^2$ . Площадь круга: $3,14 \cdot 10 \cdot 10 = 314 \text{ см}^2$ . Площадь обрезков: $400 - 314 = 86 \text{ см}^2$ . Ответ: $86 \text{ см}^2$ .	
<b>Возможна другая последовательность действий</b>	
Обоснованно получен верный ответ	2
Дан верный ответ, но решение недостаточно обосновано. ИЛИ Ход решения верный, но допущена вычислительная ошибка	1
Решение не соответствует ни одному из критериев, перечисленных выше	0
<i>Максимальный балл</i>	2

- 15 В трёх ящиках лежат яблоки. В первом ящике яблок в 2 раза меньше, чем в двух остальных вместе, во втором — 70 % количества яблок в третьем ящике, а в третьем ящике лежит 80 яблок. Сколько всего яблок в трёх ящиках?

Решение и указания к оцениванию	Баллы
Решение. Во втором ящике: $0,7 \cdot 80 = 56$ яблок. В первом ящике: $(80 + 56) : 2 = 68$ яблок. Всего в трёх ящиках: $80 + 56 + 68 = 204$ яблока. Ответ: 204.	
<b>Возможна другая последовательность действий</b>	
Проведены все необходимые рассуждения, получен верный ответ	2
Дан верный ответ, но решение недостаточно обосновано. ИЛИ Ход решения верный, но допущена вычислительная ошибка	1
Решение не соответствует ни одному из критериев, перечисленных выше	0
<i>Максимальный балл</i>	2

16

В многоквартирном доме всего 425 квартир. Во всех подъездах количество квартир одинаковое. Сколько подъездов в доме, если известно, что в каждом из них больше 80, но меньше 100 квартир?

Решение и указания к оцениванию	Баллы
Решение. Разложим 425 на простые множители: $425 = 5 \cdot 5 \cdot 17$ . По условию квартир в подъезде больше 80, но меньше 100, значит, в каждом подъезде: $5 \cdot 17 = 85$ квартир. В доме пять подъездов. Ответ: 5.	
<b>Возможна другая последовательность действий</b>	
Обоснованно получен верный ответ	2
Дан верный ответ, но решение недостаточно обосновано. ИЛИ Ход решения верный, но допущена вычислительная ошибка	1
Решение не соответствует ни одному из критериев, перечисленных выше	0
<i>Максимальный балл</i>	2

### Система оценивания выполнения всей работы

Максимальный первичный балл за выполнение работы — 22.

*Рекомендуемая таблица перевода баллов в отметки по пятибалльной шкале*

Отметка по пятибалльной шкале	«2»	«3»	«4»	«5»
Первичные баллы	0–5	6–11	12–16	17–22